

**Демонстрационный вариант
контрольных измерительных материалов
промежуточной аттестации
по учебному предмету «Окружающий мир» в 4-х классах
в 2023-2024 учебном году**

Перед вами лист с тестовыми заданиями по «Окружающему миру». Будьте внимательны в записи ответов, помните, писать надо разборчиво и грамотно. Постарайтесь выполнить как можно больше заданий и набрать наибольшее количество баллов.

На выполнение работы отводится 40 минут.

Желаем успеха!

1. Какая наука узнаёт о прошлом, изучая древние предметы, сооружения?

- ↑ 1) археология 2) история 3) астрономия 4) география

2. Пользуясь физической картой России, приведи примеры морей Северного Ледовитого океана.

1. _____

2. _____

3. _____

4. _____

3. Надя решила подготовить сообщение о самых выдающихся достопримечательностях культуры мира. Какую книгу ей для этого выбрать? Отметь (закрась кружок)



4. Какое озеро включено в Список объектов Всемирного природного наследия?

- ↑ 1) Ладожское 2) Байкал 3) Каспийское 4) Онежское

5. «Это полезное ископаемое чёрного цвета, блестит, твёрдое, но хрупкое, в воде не растворяется, хорошо и ярко горит».

- 1) гранит 2) известняк 3) каменный уголь 4) песок

6. Прочитай список и закончи составление схемы. В среднюю строку схемы запиши название отраслей животноводства, а в нижнюю строку – названия животных.



Курица, гусь, птицеводство, сазан, рыбоводство, карп, индейка.



7. Назови природную зону по описанию.

Леса образованы теплолюбивыми широколиственными растениями. Растительный и животный мир богат и разнообразен.

8. Узнай на рисунке животных Северного Ледовитого океана и зоны арктических пустынь. Впиши названия животных в схему так, чтобы получилась цепь питания.




9. Во время каких событий мировой истории произошли эти события истории России? Соедини стрелками правильно.

Великая Отечественная Война
Отечественная война 1812 года
Великая российская революция

Завоевательные войны Наполеона в Европе
Первая мировая война
Вторая мировая война

10. На каком портрете изображен учёный, конструктор космической техники Сергей Павлович Королёв?



Ответ: _____

11. Какие изобретения относятся к эпохе Новейшего времени?

- ↑ 1) фотография 2) телевидение 3) электричество 4) холодильник

12. Какие права есть у гражданина Российской Федерации?

- ↑ 1) на разрушение памятников культуры
2) на отдых ↑
3) на труд ↑
4) на образование